


解 答 欄

令和7年度 第49回 全国高等学校家庭科保育技術検定

音楽・リズム表現技術 1級 筆記問題

(制限時間10分)

1 次の楽譜を見て、(1)～(6)の問いに答えなさい。



- (1) この曲の題名を答えなさい。
- (2) 何調か調名を答えなさい。
- (3) Aの日本音名（一点二点等の区別は知らない）を答えなさい。
- (4) Bの小節に音符を記入し、楽譜を完成させなさい。
- (5) C－Dの2音間の音程を答えなさい。
- (6) この曲を演奏するのに適当と思われる速さを下記から選び、記号で答えなさい。

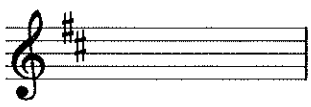
ア Allegro イ Andante ウ Allegretto

2 次の(1)～(4)の楽語、用語、記号について、それぞれの意味を答えなさい。

- (1) marcato (2) *Ad.* (3)  (4) dolce

解 答 欄

学年		受検番号		名前	
----	--	------	--	----	--

問 題	1						2			
	(1)	(2)	(3)	(4)	(5)	(6)	(1)	(2)	(3)	(4)
解 答										
得 点										


合計点		合 ・ 否
-----	--	-------

令和6年度 第48回 全国高等学校家庭科保育技術検定

音楽・リズム表現技術 1級 筆記問題

(制限時間10分)

1 次の楽譜を見て(1)～(6)の問いに答えなさい。



- (1) この楽譜はある曲のはじめの部分である。曲名を答えなさい。
- (2) 何調か答えなさい。
- (3) 何拍子の曲か拍子記号で答えなさい。
- (4) Aの音符の名称を答えなさい。
- (5) B－Cの2音間の音程を答えなさい。
- (6) Dの小節に音符や休符を記入し、楽譜を完成させなさい。

2 次の(1)～(4)の楽語、用語、記号について、それぞれの意味を答えなさい。

- (1) **cresc.** (2) **a tempo** (3) ***mp*** (4) **R.H.**

解 答 欄

学年		受検番号		名前	
----	--	------	--	----	--

問 題	1						2			
	(1)	(2)	(3)	(4)	(5)	(6)	(1)	(2)	(3)	(4)
解 答										
得 点										


合計点		合 ・ 否	
-----	--	-------	--

令和6年度 第47回 全国高等学校家庭科保育技術検定

音楽・リズム表現技術 1級 筆記問題

(制限時間10分)

1 次の楽譜を見て(1)～(6)の問いに答えなさい。



- (1) この曲の曲名を答えなさい。
- (2) 何調か答えなさい。
- (3) Aの日本音名（一点二点の区別は知らない）を答えなさい。
- (4) この曲の主要三和音をト音譜表上に全音符で記入しなさい。
- (5) B－Cの2音間の音程を答えなさい。
- (6) この曲を演奏するのに適する速さを下記から選び、記号で答えなさい。

ア ♩ = 120

イ ♩ = 64

ウ ♩ = 92

2 次の(1)～(4)の楽語、用語、記号について、それぞれの意味を答えなさい。

(1) **Tempo I**(3) ***ff***(4) **espressivo**

解 答 欄

学年	受検番号	名前
----	------	----

問 題	1						2			
	(1)	(2)	(3)	(4)	(5)	(6)	(1)	(2)	(3)	(4)
解 答										
得 点										

合計点

合 ・ 否

令和5年度 第46回 全国高等学校家庭科保育技術検定

音楽・リズム表現技術 1級 筆記問題

(制限時間10分)

1 次の楽譜を見て(1)～(6)の問いに答えなさい。



- (1) この楽譜はある曲のはじめの部分である。曲名を答えなさい。
(2) 何調か答えなさい。
(3) Aの日本音名（一点二点等の区別は知らない）を答えなさい。
(4) この曲の主要三和音をト音譜表上に全音符で記入しなさい。
(5) B－Cの2音間の音程を答えなさい。
(6) この曲を演奏するのに適当と思われる速さを下記から選び、記号で答えなさい。

ア Andantino イ Moderato ウ Allegretto

2 次の(1)～(4)の楽語、用語、記号について、それぞれの意味を答えなさい。

- (1) **cantabile** (2) **D.C.** (3) ***sf*** (4) **legato**

解 答 欄

学年		受検番号		名前	
----	--	------	--	----	--

問 題	1						2			
	(1)	(2)	(3)	(4)	(5)	(6)	(1)	(2)	(3)	(4)
解 答										
得 点										

合計点		合 ・ 否	
-----	--	-------	--


合計点	合	否
-----	---	---

令和4年度 第44回 全国高等学校家庭科保育技術検定

音楽・リズム表現技術 1級 筆記問題

(制限時間10分)

1 次の楽譜を見て(1)～(6)の問いに答えなさい。



- (1) この楽譜はある曲の最初の部分である。曲の題名を答えなさい。
- (2) 何調か答えなさい。
- (3) Aの音符の名称を答えなさい。
- (4) この曲の主要三和音をト音譜表上に全音符で記入しなさい。
- (5) B－Cの2音間の音程を答えなさい。
- (6) この曲を演奏するのに適当と思われる速さを下記から選び、記号で答えなさい。

ア ♩=63

イ ♩=112

ウ ♩=120

2 次の(1)～(4)の楽語、用語、記号について、それぞれの意味を答えなさい。

- (1) **Allegro** (2) **rit.** (3) **sempre** (4) **♩**

解 答 欄

学年		受検番号		名前	
----	--	------	--	----	--

問 題	1						2			
	(1)	(2)	(3)	(4)	(5)	(6)	(1)	(2)	(3)	(4)
解 答										
得 点										

合計点		合 ・ 否
-----	--	-------

令和4年度 第43回 全国高等学校家庭科保育技術検定
音楽・リズム表現技術 1級 筆記問題

(制限時間10分)

1 次の楽譜を見て(1)～(6)の問いに答えなさい。



- (1) 何調か答えなさい。
- (2) 何拍子か拍子記号で答えなさい。
- (3) Aの日本音名（一点二点等の区別はいらない）を答えなさい。
- (4) この曲の主要三和音をト音譜表上に全音符で記入しなさい。
- (5) B－Cの2音間の音程を答えなさい。
- (6) この曲を演奏するのに適当と思われる曲想を下記から選び、記号で答えなさい。

ア 活発に イ 優雅に ウ かわいらしく

2 次の(1)～(4)の楽語、用語、記号について、それぞれの意味を答えなさい。

- (1) amabile (2) **pp** (3) Comodo (4) 8^{va}.....

解 答 欄

学年		受検番号		名前	
----	--	------	--	----	--

問 題	1						2			
	(1)	(2)	(3)	(4)	(5)	(6)	(1)	(2)	(3)	(4)
解 答										
得 点										

合計点		合 ・ 否
-----	--	-------

令和3年度 第42回 全国高等学校家庭科保育技術検定

音楽・リズム表現技術 1級 筆記問題

(制限時間10分)

1 次の楽譜を見て(1)～(6)の問いに答えなさい。

- (1) この楽譜はある曲のはじめの部分である。題名を答えなさい。
- (2) 何調か調名を答えなさい。
- (3) 何拍子の曲か拍子記号で答えなさい。
- (4) Aの小節に音符や休符を記入し、楽譜を完成させなさい。
- (5) B－Cの2音間の音程を答えなさい。
- (6) Dの部分のリズムの形を何と言いますか。

2 次の(1)～(4)の楽語，用語，記号について，それぞれの意味を答えなさい。

- (1) Moderato
- (2) ♪
- (3) L.H.
- (4) dolce

解 答 欄

学年		受検番号		名前	
----	--	------	--	----	--

問 題	1						2				
	(1)	(2)	(3)	(4)	(5)	(6)	(1)	(2)	(3)	(4)	
解 答											
得 点											

合計点		合 ・ 否	
-----	--	-------	--

