

3 級 筆記問題

1. 次の(1)・(2)に最も適した事項を、アからエまでの中から一つずつ選んで、その記号を解答欄に記入しなさい。

(1) 夏の日常着 (2) 冬の日常着

- ア 外衣には通気性の少ない材料のものを着用する
- イ 厚い布でひとえ仕立てにする
- ウ 強度の大きい布を用いる
- エ 開口部を大きくする

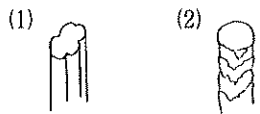
2. 次の文は布の特徴を示したものである。(1)・(2)に適する布地名を、アからオまでの中からそれぞれ一つずつ選んで、その記号を解答欄に記入しなさい。

(1) 綿の単糸を用いた粗目の平織物で、糸の太さや密度によって厚地・中厚地・薄地等の種類があり、エプロンやブラウスに用いられる

(2) 太い羊毛を用いた平織または斜文織の布で、厚手で弾力性があるため、スーツ・パンツ・スカートなどに用いられる

- ア ブロード
- イ デニム
- ウ シーティング
- エ ツイード
- オ ネル

3. 下図の(1)・(2)は繊維を顕微鏡で見てスケッチしたものである。最も適する繊維名をアからオまでの中からそれぞれ一つずつ選んで、その記号を解答欄に記入しなさい。



- ア 麻
- イ ポリエステル
- ウ 絹
- エ アセテート
- オ 毛

4. 次の衣服に最も適するアイロン温度をアからウまでの中から一つ選んで、その記号を解答欄に記入しなさい。
綿のワイシャツ

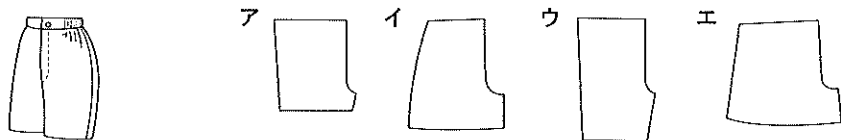
- ア 低 (80~120℃)
- イ 中 (140~160℃)
- ウ 高 (180~210℃)

5. 次の(1)・(2)はミシンの調子の悪い場合である。その原因について該当するものを、アからエまでの中からそれぞれ一つずつ選んで、その記号を解答欄に記入しなさい。

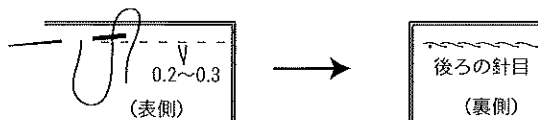
(1) 上糸が切れる (2) 針目がとぶ

- ア 布地に対して針と糸の太さが適当でないとき
- イ 針が針板の針穴の中心に通るようにつけていないとき
- ウ 上糸の調子が強すぎるとき
- エ 布地に対して針が細すぎるとき

6. 下図のアウトターパンツの前型紙として最も適するものを、アからエまでの中から一つ選んで、その記号を解答欄に記入しなさい。



7. 下図の縫い方の名称を解答欄に記入しなさい。

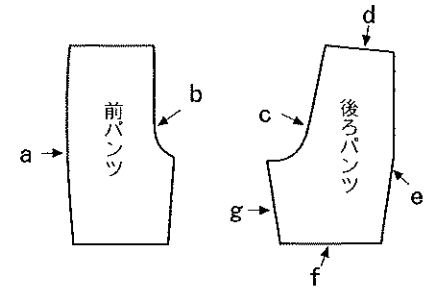


8. 右図はアウトターパンツの型紙である。(1)・(2)の問いに答えなさい。

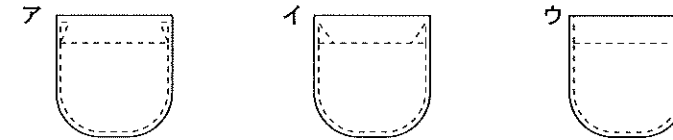
(1) 前パンツの a と b の名称をアからオまでの中からそれぞれ一つずつ選んで、その記号を解答欄に記入しなさい。

- ア すそ
- イ わき
- ウ 胴
- エ また下
- オ また上

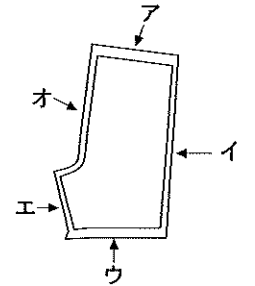
(2) 前パンツの a と縫い合わせる場所はどこか。後ろパンツの c から g までの中から一つ選んで、その記号を解答欄に記入しなさい。



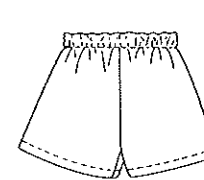
9. 下図はパッチポケットの口止めミシンのかけ方を示したものである。表布に力が加わらないで、布地が切れない縫い方を、アからウまでの中から一つ選んで、その記号を解答欄に記入しなさい。



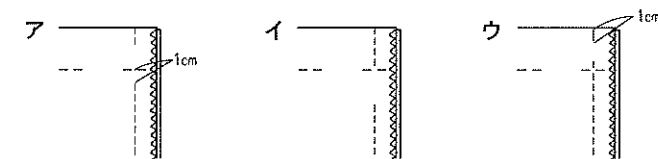
10. 右図のアウトターパンツの場合 (ウエストとすそは三つ折りにする), 縫いしろの始末のためにロックミシンをかける場所を、アからオまでの中から三つ選んで、その記号を解答欄に記入しなさい。



11. 下図のアウトターパンツを製作する場合、ウエストの始末について、次の(1)・(2)の問いに答えなさい。



(1) 幅広のゴムを通す場合、通し口の縫い方として正しいものをアからウまでの中から一つ選んで、その記号を解答欄に記入しなさい。



(2) ゴムテープの長さを見積もる場合、最も適するものをアからウまでの中から一つ選んで、その記号を解答欄に記入しなさい。

- ア ウエスト寸法×0.9
- イ ウエスト寸法×2
- ウ ウエスト寸法×0.5

問題	1		2		3		4	5		6	7	8			9	10		11	
	(1)	(2)	(1)	(2)	(1)	(2)		(1)	(2)			(2)	a	b		(1)	(2)	(1)	(2)
3 級 (第45回) 解答																			
得点																			
学校名	高校				学年		組	番号	氏名				合計						

3 級 筆 記 問 題

1. 次の文は被服の保健衛生上の機能について述べたものである。次の文章の(1)から(3)に最も適するものを、アからカまでの中からそれぞれ一つずつ選んで、その記号を解答欄に記入しなさい。

被服を着ると、被服と皮膚のすきまにわずかな空気の間層ができる。この空気の間層は(1)と呼ばれ、外界と異なる気候をつくり出し、被服内の温度・湿度をほぼ一定に保つ役割をする。通常、人が快適に感じる(1)の温度は(2)℃前後、湿度は50%前後である。被服は着用することで皮膚を清潔に保ち私たちのからだを保護することができる。たとえば(3)は、体から出る汗やあかなどを吸収し、皮膚を清潔に保つ役割をする。

- ア 作業服 イ 室内気候 ウ 32 エ 肌着 オ 被服気候 カ 35

2. 次の(1)・(2)の文について最も適する織物組織を、アからエまでの中からそれぞれ一つずつ選んで、その記号を解答欄に記入しなさい。

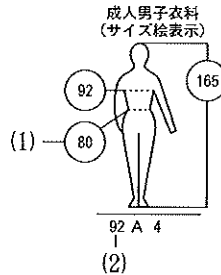
- (1) 一番光沢に富む (2) 斜めに線が見えてしなやかで厚く織られている

- ア 添毛織 イ 斜文織 ウ 平織 エ 朱子織

3. 衣類を保管する場合、最も食害されやすい繊維を、アからエまでの中から一つ選んで、その記号を解答欄に記入しなさい。

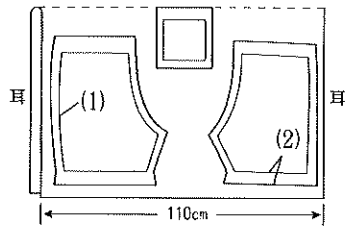
- ア 絹 イ ポリエステル ウ レーヨン エ 綿

4. 下図は成人男子衣料のサイズ絵表示である。(1)・(2)は何を意味するか。アからオまでの中からそれぞれ一つずつ選んで、その記号を解答欄に記入しなさい。



- ア チェスト イ ヒップ ウ 体型
エ 身長 オ ウエスト

5. 下図はアウターパンツの裁断図である。図中の(1)には名称を、(2)には最も適する縫いしろの分量を、アからキまでの中からそれぞれ一つずつ選んで、その記号を解答欄に記入しなさい。



- ア また下 イ 胴 ウ わき エ すそ
オ 5 cm カ 3 cm キ 1.5cm

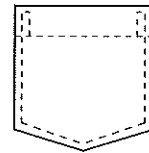
6. 次の裁縫用具の名称を解答欄に記入しなさい。



7. 既製服を選択するにあたって留意すべき事項をアからエまでの中から二つ選んで、その記号を解答欄に記入しなさい。

- ア 品質表示をよく見て購入する
イ 流行で似合うデザインならサイズは少しがまんする
ウ 縫い方や付属品をよく点検してよかったらデザインはがまんする
エ 試着して、デザインとサイズが合うか確かめて選ぶ

8. 下図のポケットの作り方とつけ方について正しい手順を示しているものをアからウまでの中から一つ選んで、その記号を解答欄に記入しなさい。

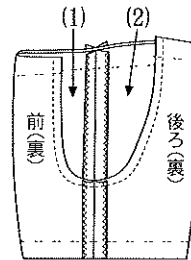


- a パンツに縫いつける ア c→b→d→a
b ポケット口以外の縫いしろを折る イ c→d→b→a
c ポケット口の縫いしろを三つ折りにする ウ d→c→b→a
d ポケット口を三つ折り縫いにする

9. ミシン縫いの方法について、文中の()に最も適する語句を解答欄に記入しなさい。

- (1) 直角の部分にミシンをかけるときは、針を角に刺したまま(1)を上げて、布を動かすときれいに縫える
(2) ミシン縫いの始めと終りは、(2)をすると、ほどけにくくてじょうぶになる

10. 下図はアウターパンツを縫うときのまた上の合わせ方を示している。(1)・(2)に最も適する語句をアからエまでの中からそれぞれ一つずつ選んで、その記号を解答欄に記入しなさい。



- ア 前(表)
イ 後ろ(表)
ウ 前(裏)
エ 後ろ(裏)

11. 下図は縫いしろ始末の方法を示したものである。端ミシンをアからエまでの中から一つ選んで、その記号を解答欄に記入しなさい。



問 題	1			2		3	4		5		6		7	8	9		10		11
	(1)	(2)	(3)	(1)	(2)		(1)	(2)	(1)	(2)	(1)	(2)			(1)	(2)			
3 級 (第46回)																			
解 答																			
得 点																			
学 校 名	高 校			学 年		組		番 号		氏 名		合 計							

3 級 筆記問題


1. 次の文の(1)から(3)に最も適するものを、アからカまでの中からそれぞれ一つずつ選んで、その記号を解答欄に記入しなさい。

私たちは被服を着ることによって外の気温とは違った人工的気候をつくって温度や湿度の調節をしている。これを(1)という。皮膚と肌着との間の温度が平均(2)内外、湿度が(3)内外のときに最も快適に感じる。

- ア 衣服気候 イ 住居気候 ウ 18℃ エ 32℃ オ 50% カ 70%

2. 右図は織物の組織を示したものである。(1)・(2)の問いに答えなさい。

- (1) 組織の名称を解答欄に記入しなさい。
 (2) 組織の特徴を、アからウまでの中から一つ選んで、その記号を解答欄に記入しなさい。



- ア 摩擦に弱い光沢に富み、手ざわりがしなやかですべりがよい
 イ 糸の交錯が多いため、糸がずれにくく丈夫で実用的である
 ウ しなやかで、斜めの線がでてしわになりにくい

3. 下のJISで表示されたものと同じ取り扱いを示しているのはアとイのどちらか。適するものを選んで、その記号を解答欄に記入しなさい。

JIS

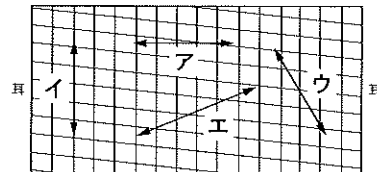
					ア					
					イ					

4. 地直しについて、次の(1)・(2)の問いに答えなさい。

(1) 綿織物に最も適する地直しの方法を、アからウまでの中から一つ選んで、その記号を解答欄に記入しなさい。

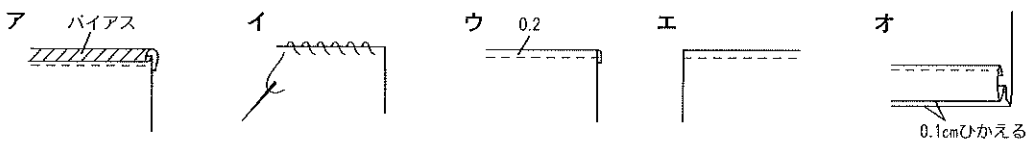
- ア 防縮加工をしていない場合は水につけ、生乾きの時にアイロンをかける。温度は高温にする
 イ 布目を整え、折りじわを消す程度に裏側から軽くアイロンをかける。温度は中温にする
 ウ 布目を整える程度にアイロンをかける。温度は低温にする

(2) 右図は布目を正しくするために布地を引っぱる方向を示したものである。最も適するものを、アからエまでの中から一つ選んで、その記号を解答欄に記入しなさい。

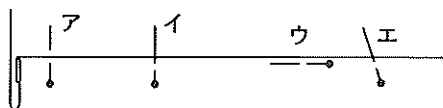


5. 下図は縫いしろ始末の方法を示したものである。(1)・(2)について最も適するものを、アからオまでの中からそれぞれ一つ選んで、その記号を解答欄に記入しなさい。

(1) 捨てミシン (2) かがり縫い

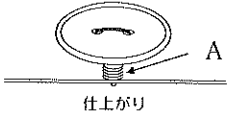


6. 下図はまち針のうち方を示したものである。正しいうち方をアからエまでの中から一つ選んで、その記号を解答欄に記入しなさい。



7. 右図はボタンの付け方の図である。(1)・(2)の問いに答えなさい。

- (1) Aの名称を解答欄に記入しなさい。
 (2) Aの目的をアからウまでの中から一つ選んで、その記号を解答欄に記入しなさい。
- ア ボタンの損傷を防ぐため
 イ 布地をいためないようにするため
 ウ 布の厚みを確保して、ボタンをはめやすくするため

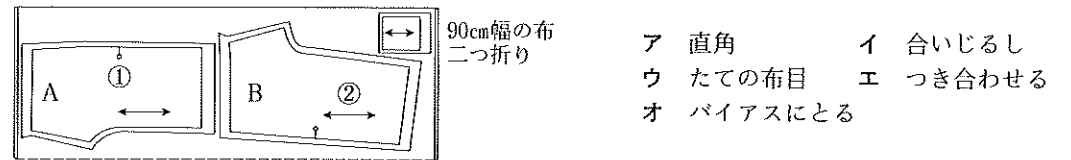


8. アウターパンツの仕上げについて、ウエスト60cmのアウターパンツに幅広のゴムテープを通す場合、ゴムテープはどれくらいの長さが適当か、最も適するものをアからエまでの中から一つ選んで、その記号を解答欄に記入しなさい。ただし、両端の重なり分は含まないものとする。

- ア 46cm イ 54cm ウ 62cm エ 68cm

9. 下図はアウターパンツの裁ち方を示したものである。(1)・(2)の問いに答えなさい。

- (1) 前パンツはA、Bのうちどれか、解答欄に記入しなさい。
 (2) 図中①・②の記号の意味をアからオまでの中から一つずつ選んで、その記号を解答欄に記入しなさい。



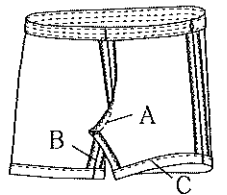
- ア 直角 イ 合いじるし
 ウ たての布目 エ つき合わせる
 オ バイアスにとる

10. アウターパンツのわきの縫い方で留意すべき事項をアからウまでの中から一つ選んで、その記号を解答欄に記入しなさい。

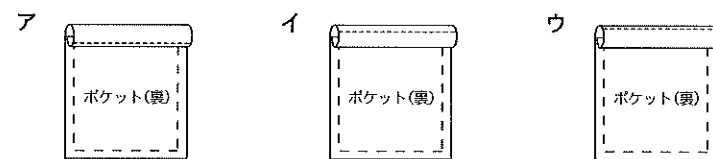
- ア 前パンツどうしを中表にして、出来上り線どおりに縫う
 イ 前パンツと後ろパンツを中表にして、出来上り線どおりに縫う
 ウ 前パンツと後ろパンツを外表にして、裁ちはしどうしをそろえて縫う

11. 右図はアウターパンツのできあがり図である。A・B・Cの縫う順序として正しいものをアからウまでの中から一つ選んで、その記号を解答欄に記入しなさい。

- ア A → C → B
 イ B → A → C
 ウ C → A → B



12. 下図はポケット口のミシンのかけ方を示したものである。最も適するものを、アからウまでの中から一つ選んで、その記号を解答欄に記入しなさい。



問題	1			2		3	4		5		6	7		8	9		10	11	12	
	(1)	(2)	(3)	(1)	(2)		(1)	(2)	(1)	(2)		(1)	(2)		(1)	(2)				
3級(第47回)解答																				
得点																				
学校名	高校				学年		組		番号		氏名				合計					

3 級 筆 記 問 題

1. 次の文の(1)・(2)に最も適するものを、アからオまでの中からそれぞれ一つずつ選んで、その記号を解答欄に記入しなさい。

被服は、体を外界から守り、皮膚を清潔に保ち、保護する機能をもつ。被服を着ると、皮膚との間、あるいは重ねた被服との間に（1）ができ、外の空気とは異なる温度や湿度をもつ気候をつくり出す。これを衣服気候といい、（2）を一定に保つ補助をする。

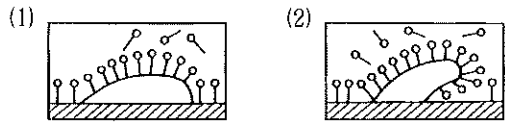
- ア 体温 イ 汗 ウ 吸湿性 エ 空気層 オ 住居気候

2. 次の(1)・(2)の目的をもつ繊維製品の加工の名称を、アからオまでの中からそれぞれ一つずつ選んで、その記号を解答欄に記入しなさい。

- (1) 型崩れや縫いつれを 방지、アイロンかけの手間を省くもの
 (2) 水蒸気を通すが水滴は通さないもの


- ア 防水加工 イ 防汚加工 ウ 防しわ加工 エ 透湿防水加工 オ 形態安定加工

3. 下図は洗濯の原理を示したものである。(1)・(2)の説明として最も適するものをアからウまでの中からそれぞれ一つずつ選んで、その記号を解答欄に記入しなさい。




- ア 再附着防止作用によって汚れは再び洗濯物につかない
 イ 浸透作用により汚れと繊維の間にはいる
 ウ 洗剤の分子が汚れの表面に集まる

4. 下図の衣装の構成について、ア・イの中から一つ選んで、その記号を解答欄に記入しなさい。

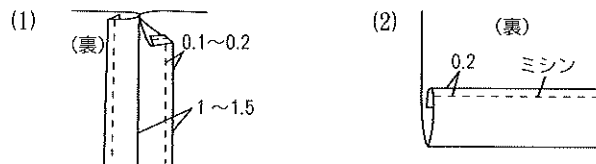


- ア 平面構成
 イ 立体構成

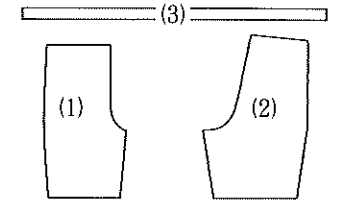
5. 次の裁縫用具の名称を解答欄に記入しなさい。



6. 下図の(1)・(2)の縫いしろの始末の名称を解答欄に記入しなさい。

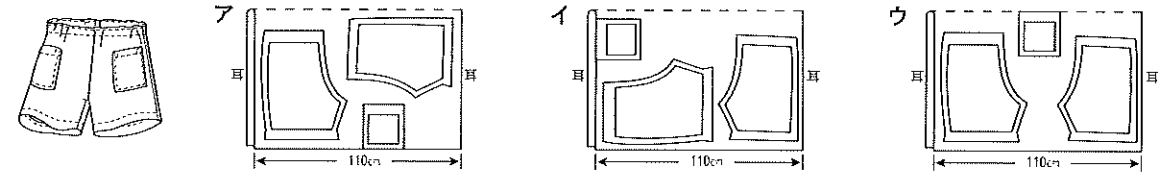


7. 右図はアウターパンツの型紙である。(1)から(3)の名称を、アからウまでの中からそれぞれ一つずつ選んで、その記号を解答欄に記入しなさい。



- ア ベルト イ 前パンツ ウ 後ろパンツ

8. 下図は110cm幅の無地の布を使用したアウターパンツの裁ち方である。型紙の置き方が正しいものをアからウまでの中から一つ選び、その記号を解答欄に記入しなさい。

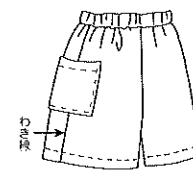


9. 次の文は、ソフトデニムを用いたアウターパンツの製作について述べたものである。(1)・(2)に最も適するものをアからオまでの中からそれぞれ一つずつ選んで、その記号を解答欄に記入しなさい。

仮縫いは、本縫いの前に、体型に合っているか、希望のデザインになっているかを確認するために、(1)で粗く縫って形づくり。補正は、試着して、(2)量やパンツ丈を点検し、不都合な部分を補正する。

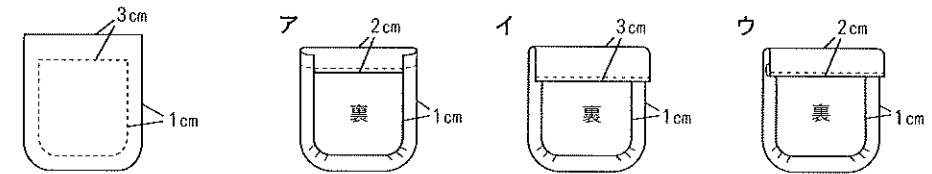
- ア たて イ よこ ウ 地直し エ ゆとり オ しつけ糸

10. 下図のアウターパンツを製作する場合、どのような順序で縫ったらよいか。(1)から(3)に最も適するものを、アからウまでの中からそれぞれ一つずつ選んで、その記号を解答欄に記入しなさい。



- (1) → ポケットをつける → また下を縫う → (2) → ウエストの始末 → (3)
 ア また上を縫う
 イ わきを縫う
 ウ すその始末

11. 下図のように裁断したポケットをつける場合、縫いしろの折り方が最も適切なものをアからウまでの中から一つ選んで、その記号を解答欄に記入しなさい。



問 題	1		2		3		4	5	6		7			8	9			10			11
	(1)	(2)	(1)	(2)	(1)	(2)			(1)	(2)	(3)	(1)	(2)		(3)	(1)	(2)	(3)			
3 級 (第48回) 解 答																					
得 点																					
学 校 名	高 校				学 年		組	番 号	氏 名				合 計								

3 級 筆記問題

1. 保温効果をあげる冬着の着方について、(1)・(2)に最も適する語句を、アからオまでの中からそれぞれ一つずつ選んで、その記号を解答欄に記入しなさい。

暖かい着方として内側に (1) の多い綿メリヤス等をゆったり着用し、外側に (2) の少ないものを選んで着用する。

- ア 吸湿性 イ 通気性 ウ 熱伝導率 エ 含気量 オ 被覆面積

2. 次の(1)・(2)の繊維にあてはまるものを、アからオまでの中からそれぞれ一つずつ選んで、その記号を解答欄に記入しなさい。

- (1) 動物繊維 (2) 半合成繊維

- ア アクリル イ アセテート ウ キュプラ エ 絹 オ 綿





3. 毛100%の白いセーターを手洗いする場合、(1)・(2)の問いについて最も適するものを、それぞれのアからウまでの中から一つずつ選んで、その記号を解答欄に記入しなさい。

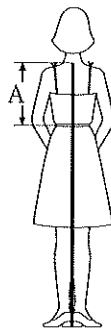
- (1) 適した洗剤はどれか。 (2) 適した洗い方はどれか。

- ア 石けん ア もみ洗いにする
 イ 弱アルカリ性洗剤 イ 押し洗いにする
 ウ 中性洗剤 ウ つかみ洗にする

4. 次の(1)・(2)について、あてはまる表示をアからエまでの中からそれぞれ一つずつ選んで、その記号を解答欄に記入しなさい。

- (1) 独創的で能率的な意匠の商品として認めたグッドデザインマーク
 (2) スポーツウエアなど、フルファッション編み機でつくられた製品につけられる


- ア  イ  ウ  エ 




5. 右図のAは採寸箇所を示したものである。最も適する名称をアからオまでの中から一つ選んで、その記号を解答欄に記入しなさい。

- ア 腰たけ イ 背幅 ウ 背たけ エ 着たけ オ 床上がり寸法

6. 90cm幅(無地)で下図のアウトターパンツを製作する場合、布の見積もり方として最も適するものをアからウまでの中から一つ選んで、その記号を解答欄に記入しなさい。



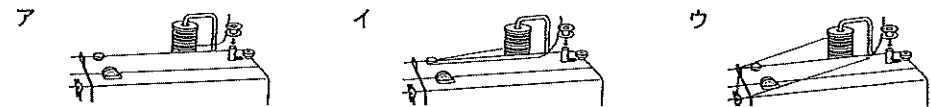
- ア {パンツたけ+縫いしろ(10cm)} × 2
 イ パンツたけ+縫いしろ(10cm)
 ウ パンツたけ × 2



7. 右図の裁縫用具の名称を解答欄に記入しなさい。

8. 次の(1)・(2)の問いについて、正しいものをそれぞれのアからウまでの中から一つずつ選んで、その記号を解答欄に記入しなさい。

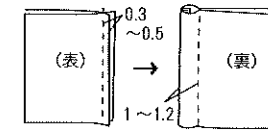
- (1) ミシンの下糸を巻くときの糸のかけ方



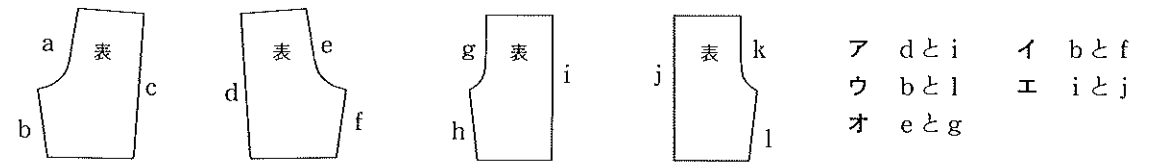
- (2) ミシンの下糸の巻き状態



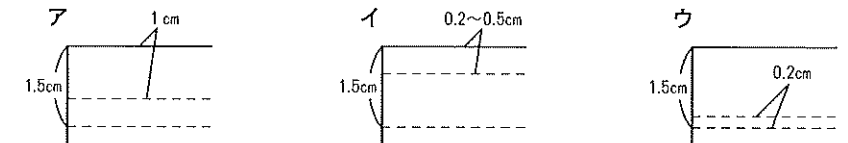
9. 右図の縫いしろの始末の名称を解答欄に記入しなさい。



10. アウターパンツの布を裁断したところ、下図の4枚になった。縫い合わせる箇所の組み合わせとして適するものをアからオまでの中から二つ選んで、その記号を解答欄に記入しなさい。



11. 縫いしろ始末の二度縫いをするとき、最も適するものをアからウまでの中から一つ選んで、その記号を解答欄に記入しなさい。



12. アウターパンツのまた上の縫い方について、(1)・(2)に最も適する語句を、アからオまでの中からそれぞれ一つずつ選び、その記号を解答欄に記入しなさい。また、文中の下線部(a)について、最も適切なものをカからクまでの中から一つ選び、その記号を解答欄に記入しなさい。

- ・左右のパンツを (1) に合わせ、しるし通りに縫い合わせる。
- ・また下の交差した部分は、補強のため 重ね縫い をする。縫いしろは (2)。

- ア 中表 イ 外表 ウ 右パンツに倒す エ 左パンツに倒す オ アイロンで割る
 カ また下の交差部分の前後それぞれ1~2cmを重ね縫いする
 キ また下の交差部分の前後それぞれ7~8cmを重ね縫いする
 ク 前パンツ部分のみ、すべて重ね縫いする

問題	1		2		3		4		5	6	7	8		9	10	11	12			
	(1)	(2)	(1)	(2)	(1)	(2)	(1)	(2)				(1)	(2)				(a)			
3級(第49回) 解答																				
得点																				
学校名	高校				学年		組		番号		名前			合計						

3 級 筆 記 問 題

1. 下着について文中の(1)・(2)に最も適する語句を、アからエまでの中からそれぞれ一つずつ選んで、その記号を解答欄に記入しなさい。

下着は着装の基礎となるもので、自分の (1) にあったものを選び、上着の (2) を生かすことができるよう着用することが大切である。

- ア バスト イ デザイン ウ すべり エ サイズ

2. 次の(1)・(2)の繊維名について最も適するものを、アからエまでの中からそれぞれ一つずつ選んで、その記号を解答欄に記入しなさい。

- (1) ストッキングなどに用いられている繊維で、吸湿性がほとんどなく熱に弱い、ひっぱりや摩擦に強い。
(2) ゴムのように伸縮性が大きく、水着などに利用される。

- ア レーヨン イ ポリウレタン ウ ポリエステル エ ナイロン

3. 次の(1)・(2)の説明にあてはまる洗濯表示記号を、アからエの中からそれぞれ一つずつ選んで、その記号を解答欄に記入しなさい。


- (1) 酸素系漂白剤の使用はできるが、塩素系漂白剤は使用禁止。
(2) 日陰のつり干しがよい。

- ア [記号] イ [記号] ウ [記号] エ [記号]

4. 次の説明にあてはまるファッションの名称を答えなさい。また、説明に関係するものを、アからウまでの中から一つ選んで、その記号を解答欄に記入しなさい。

- 素材調達から製造、流通にいたるまで生産者労働条件や自然環境などに配慮した方法で作られたファッション
ア 低い製造コスト イ オーガニックコットン ウ ウエストがゴムで自在に調整できるジーンズ

5. 右図はミシン縫いの上糸と下糸のつり合いを示したものである。(1)・(2)の問いに答えなさい。



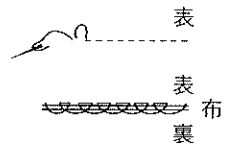
(1) つり合いの状態をア・イの中から一つ選んで、その記号を解答欄に記入しなさい。

- ア 上糸が弱い イ 上糸が強い

(2) つり合いを良くするためにはどうしたらよいか。アからウまでの中から一つ選んで、その記号を解答欄に記入しなさい。

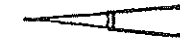
- ア 送り調節ダイヤルの目盛りを大きくする イ 上糸調節ダイヤルの目盛りを小さくする
ウ 上糸調節ダイヤルの目盛りを大きくする

6. 下図の縫い方の名称を、アからエまでの中から一つ選んで、その記号を解答欄に記入しなさい。



- ア 千鳥がけ イ 半返し縫い
ウ 本返し縫い エ まつり縫い

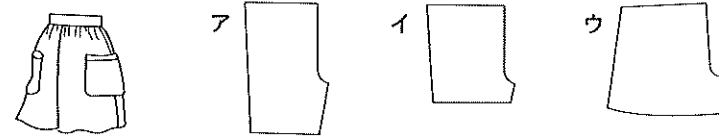
7. 右図の裁縫用具の名称を解答欄に記入しなさい。



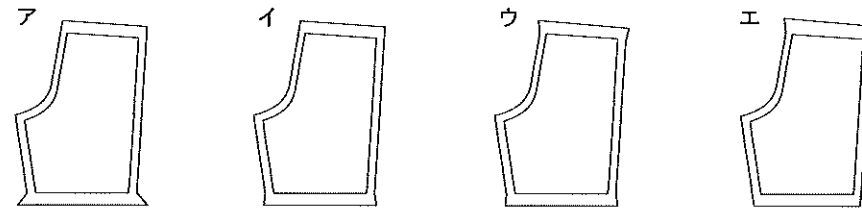
8. アウターパンツを製作する場合、必要な採寸箇所をアからエまでの中から一つ選んで、その記号を解答欄に記入しなさい。

- ア 背たけ イ 腰たけ ウ 腰囲 エ 胸囲

9. 下図のデザインのアウターパンツで前パンツの型紙として最も適するものを、アからウまでの中から一つ選んで、その記号を解答欄に記入しなさい。



10. 下図はアウターパンツの縫いしろを示したものである。最も適しているものをアからエまでの中から一つ選んで、その記号を解答欄に記入しなさい。



11. アウターパンツのしるしつけについて、(1)・(2)に最も適する語句をアからエまでの中から一つずつ選んで、その記号を解答欄に記入しなさい。

しるしつけは、布地に合わせて行う。綿・麻・化繊などは、外表に合わせ、間に (1) をはさみ、(2) で布地裏面にしるしをつける。

- ア しつけ糸 イ チャコペーパー ウ ものさし エ ルレット

12. アウターパンツの縫い方の手順について、(1)から(3)に最も適する語句を、アからカまでの中からそれぞれ一つずつ選んで、その記号を解答欄に記入しなさい。

- 1. 前後のパンツを中表に合わせ、(1) とまた下を縫う。
2. 左右のパンツを中表に合わせ、また上を縫う。縫いしろは (2) 。
3. ウエストとすそは (3) をする。

- ア ゴム通し口 イ わき ウ 右に倒す エ 割る オ 重ね縫い
カ 三つ折り縫い

Score sheet table with columns for question numbers (1-12), answer marks, school name, grade, year, group, number, name, and total score.

3 級 筆記問題

1. 次の(1)・(2)の被服に最も強く要求される機能をアからカまでの中からそれぞれ一つずつ選んで、その記号を解答欄に記入しなさい。

(1) 夏の肌着 (2) トレーニングウェア

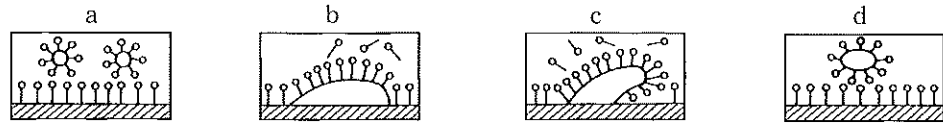
- ア 身体防護 イ 儀式・行事などにおける心情表現 ウ 個性の表現 エ 皮膚の清潔
- オ 生活活動への適応 カ 職業・所属集団などの表現

2. 次の(1)・(2)の繊維の原料をアからエまでの中からそれぞれ一つずつ選んで、その記号を解答欄に記入しなさい。

(1) 麻 (2) 絹

- ア 綿花 イ 羊毛 ウ 麻のくき、皮 エ 蚕のまゆ

3. 次の図は、洗濯の原理を示したものである。aからdについて、汚れの落ちる順番で正しいものをアからエまでの中から一つ選んで、その記号を解答欄に記入しなさい。

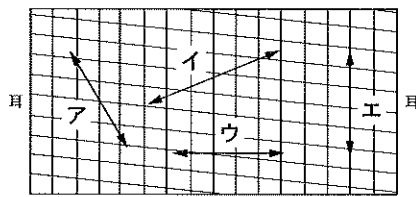


- ア b→c→d→a イ a→d→b→c ウ a→d→c→b エ b→d→a→c

4. 次の(1)・(2)の問いに答えなさい。

(1) 被服製作の前準備として行う、着用後の型崩れを防いだり、布のゆがみ・つれ・しわを直すなどの目的で布地を整えることを何というか、解答欄に記入しなさい。

(2) 右図は布目を正しくするために布地を引っぱる方向を示したものである。最も適するものをアからエまでの中から一つ選んで、その記号を解答欄に記入しなさい。



5. 次の文は糸と針の太さについて述べたものである。(1)から(3)に最も適する語句をア・イの中から一つ選んで、その記号を解答欄に記入しなさい。

ミシン針の太さは番号が小さくなるほど(1)くなる。

メリケン針は番号が大きくなるほど(2)くなる。

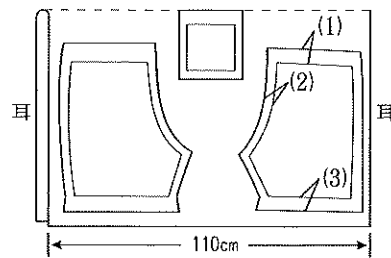
カタン糸は番手数が小さくなるほど(3)くなる。

- ア 太 イ 細

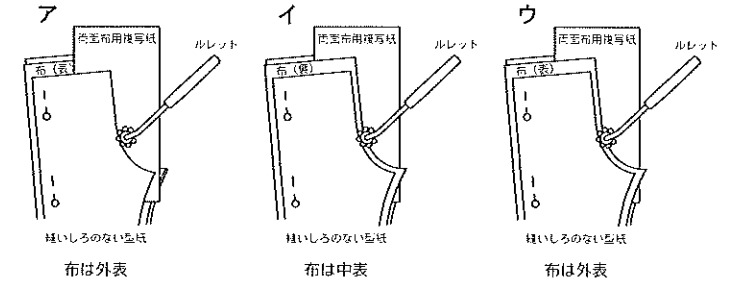
6. 右図はソフトデニムでアウトターパンツを製作する場合の裁断図である。図中の(1)から(3)までに最も適する縫いしろの分量を、アからエまでの中からそれぞれ一つずつ選んで、その記号を解答欄に記入しなさい。

※ウエストのしまつは三つ折りで、ゴムを入れる。

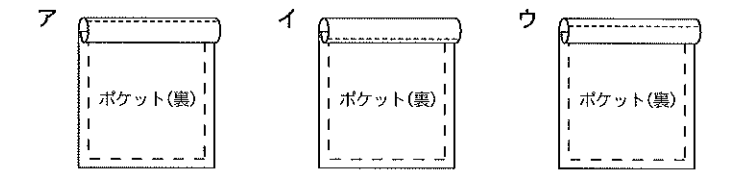
- ア 5cm イ 3.5cm ウ 1.5cm エ 0.5cm



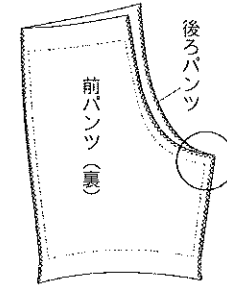
7. 右図はアウトターパンツのしるしつけを示したものである。最も適するものをアからウまでの中から一つ選んで、その記号を解答欄に記入しなさい。ただし、しるしつけは両面布用複写紙(チャコペーパー)を使用する。



8. 右図はポケット口のミシンのかけ方を示したものである。最も適するものをアからウまでの中から一つ選んで、その記号を解答欄に記入しなさい。



9. アウトターパンツのまた下の縫い方(また上側)として留意すべき事項をアからウまでの中から一つ選んで、その記号を解答欄に記入しなさい。



- ア 1針手前で縫いとまる
- イ 1針先まで縫う
- ウ 布端まで縫う

10. 右図はアウトターパンツのできあがり図である。(1)から(3)の問いに答えなさい。

(1) Aの名称を解答欄に記入しなさい。

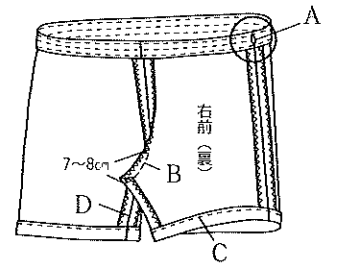
(2) B・Cに最も適する縫い方の方法をアからオまでの中からそれぞれ一つずつ選んで、その記号を解答欄に記入しなさい。

- ア 重ね縫い イ かがり縫い ウ 端ミシン

- エ 折り伏せ縫い オ 三つ折り縫い

(3) B・C・Dの縫う順序として正しいものをアからウまでの中から一つ選んで、その記号を解答欄に記入しなさい。

- ア C→B→D イ B→D→C ウ D→B→C



問題	1		2		3	4		5			6			7	8	9	10					
	(1)	(2)	(1)	(2)		(1)	(2)	(3)	(1)	(2)	(3)	(1)	(2)				(3)					
													B					C				
3級(第51回)解答																						
得点																						
学校名					高校	学年	組	番号	名前				合計									

3 級 筆記問題

1. 次の文は着装について述べたものである。(1)から(3)に最も適する語句をアからカまでの中からそれぞれ一つずつ選んで、その記号を解答欄に記入しなさい。

服装は、私たちの個性や気持ちを表現するために大きな役割を果たしている。自分らしい(1)を楽しむことと同様に、私たちは社会生活のいろいろな場面で、社会との(2)を心がけることも大切である。そのためには、(3)すなわち、時間・場所・場合に合った服装を選択するとよい。

ア TPO イ 調和 ウ 印象 エ 区別 オ 表現 カ 影響

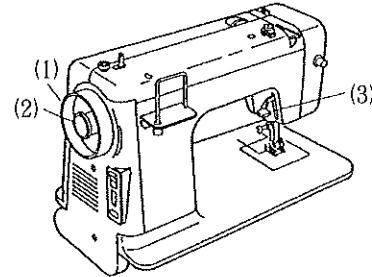
2. 次の(1)・(2)の被服材料の性質について、最も適する名称をアからオまでの中からそれぞれ一つずつ選んで、その記号を解答欄に記入しなさい。

(1) 水蒸気を通す性質 (2) 空気を通す性質

ア 通気性 イ 吸水性 ウ 吸湿性 エ 保温性 オ 透湿性

3. 右図はミシンの各部の名称を示したものである。(1)から(3)にあてはまる名称を、アからカまでの中からそれぞれ一つずつ選んで、その記号を解答欄に記入しなさい。

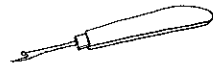
ア 天びん イ はずみ車 ウ クラッチつまみ
エ 押さえ オ 押さえ上げ カ 返し縫いレバー



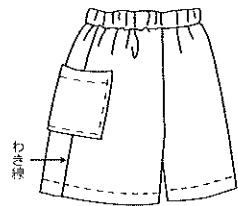
4. ミシン縫いの方法について、空欄に最も適する語句を解答欄に記入しなさい。

・ミシン縫いの始めと終わりは、()をすると、ほどけにくくてじょうぶになる

5. 右図の裁縫用具の名称を解答欄に記入しなさい。



6. 下図のアウトターパンツを製作する場合、どのような順序で縫ったらよいか。(1)から(3)に最も適するものを、アからウまでの中からそれぞれ一つずつ選んで、その記号を解答欄に記入しなさい。

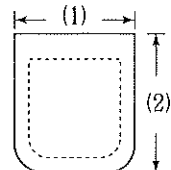
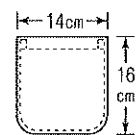


(1) → ポケットをつける → (2) → (3)
→ ウエストのしまつ → すそのしまつ

ア また上を縫う イ また下を縫う ウ わきを縫う

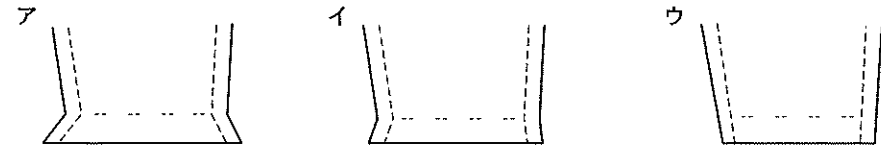
7. アウターパンツのポケット作りについて、でき上がりのポケットの大きさを図のようにするとき、布地の(1)・(2)の寸法は何cmが最もよいか、アからカまでの中からそれぞれ一つずつ選んで、その記号を解答欄に記入しなさい。

でき上がり図



ア 24cm イ 22cm ウ 20cm
エ 16cm オ 14cm カ 12cm

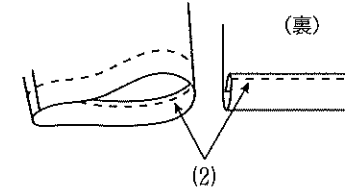
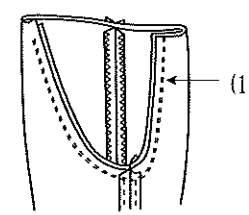
8. 下図はアウターパンツのわき・また下の縫いしろと縫い方を示したものである。最も適するものをアからウまでの中から一つ選んで、その記号を解答欄に記入しなさい。



9. 下図はアウターパンツの縫い方を示したものである。(1)・(2)に最も適する縫い方をアからオまでの中からそれぞれ一つずつ選んで、その記号を解答欄に記入しなさい。

また上

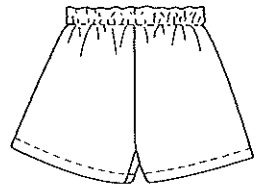
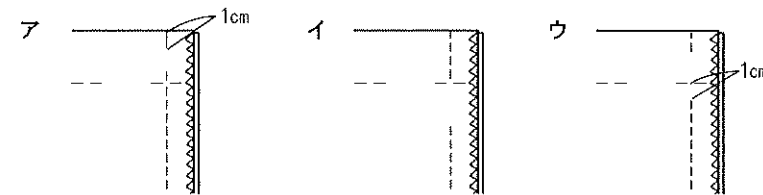
すそ



ア ジグザグミシン
イ 三つ折り縫い
ウ 袋縫い
エ 端ミシン
オ 重ね縫い

10. アウターパンツのウエストのしまつについて、(1)・(2)の問いに答えなさい。

(1) 幅広のゴムを通す場合、通し口の縫い方として正しいものをアからウまでの中から一つ選んで、その記号を解答欄に記入しなさい。



(2) ゴムテープの長さを見積もる場合、最も適するものをアからウまでの中から一つ選んで、その記号を解答欄に記入しなさい。

ア ウエスト寸法×0.5 イ ウエスト寸法×0.9 ウ ウエスト寸法×2

問題	1			2		3			4	5	6			7		8	9		10	
	(1)	(2)	(3)	(1)	(2)	(1)	(2)	(3)			(1)	(2)	(3)	(1)	(2)		(1)	(2)	(1)	(2)
3級 解答																				
得点																				
学校名	高校		学年	組		番号	名前			合計										

3 級 筆記問題

1. 次の文の(1)から(3)に適する語句を、アからカまでの中からそれぞれ一つずつ選んで、その記号を解答欄に記入しなさい。

私たちは被服を着ることによって外の気温とは違った人工的気候をつくって温度や湿度の調節をしている。これを(1)という。皮膚と肌着との間の温度が平均(2)内外、湿度が(3)内外のときに最も快適に感じる。

ア 18℃ イ 32℃ ウ 50% エ 70% オ 被服気候 カ 洋服気候

2. 次の文は被服材料の作り方を示したものである。(1)・(2)に最も適するものを、アからエまでの中からそれぞれ一つずつ選んで、その記号を解答欄に記入しなさい。


(1) 多数のたて糸とよこ糸を交互に組み合わせて布状にしたもの
 (2) 毛の縮充性を利用し、繊維をからみ合わせて布状にしたもの

ア 編物 イ フェルト ウ 不織布 エ 織物

3. 次の(1)・(2)にあてはまる主な汚れについて、最も適するものをアからウまでの中からそれぞれ一つずつ選んで、その記号を解答欄に記入しなさい。

(1) 油性の汚れ (2) 不溶性の汚れ
 ア 粘土・泥・すす イ 皮脂・口紅・ペンキ ウ 汗・血液・果汁

4. 次の(1)の縫いしろのしまつと、(2)の裁縫用具の名称を解答欄に記入しなさい。

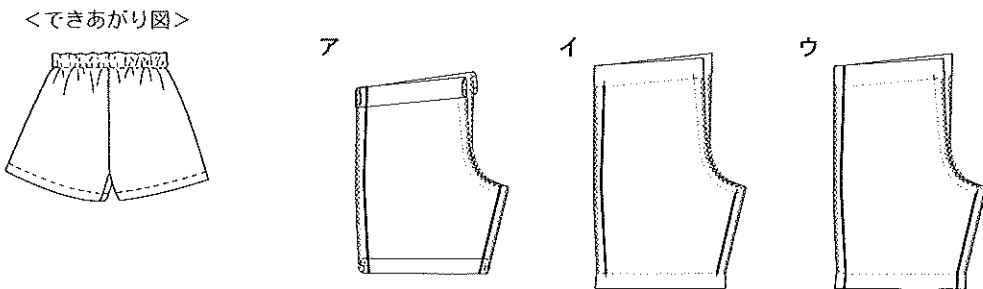


5. 次の文の(1)から(3)に最も適する語句をアからオまでの中からそれぞれ一つずつ選んで、その記号を解答欄に記入しなさい。

アウターパンツはズボン類の総称で、(1)を覆う衣服として性別・年齢を問わず幅広く着用されている。パンツの(2)や丈、シルエットの違いで様々なデザインになる。パンツは丈を短くすると夏の日常着・(3)として、丈を長くするとカジュアルな街着としていろいろな着用ができる。

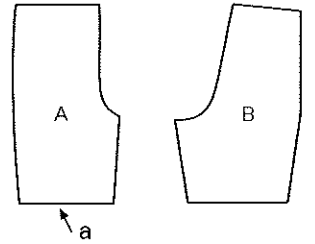
ア ジョギングパンツ イ 上半身 ウ 下半身 エ フォーマルパンツ オ 幅

6. 下図のアウターパンツを製作する場合、わきとまた下の縫い方として最も適するものをアからウまでの中から一つ選んで、その記号を解答欄に記入しなさい。

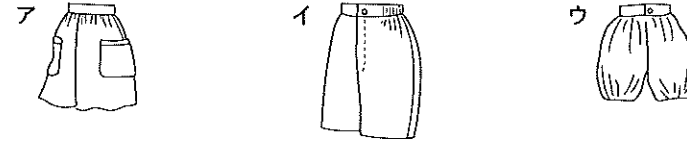


7. 右図はアウターパンツの型紙である。(1)から(3)の問いに答えなさい。

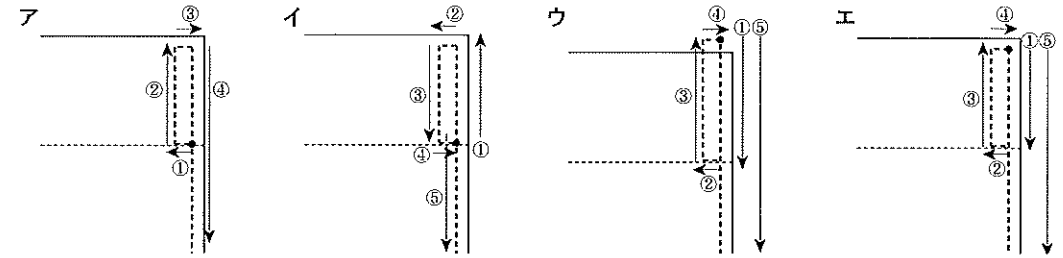
(1) 前パンツはA・Bのどちらか。正しいものの記号を解答欄に記入しなさい。
 (2) 型紙Aのaの名称をアからウまでの中から一つ選んで、その記号を解答欄に記入しなさい。



ア すそ イ ウエスト ウ ポケット
 (3) この型紙から仕上がるパンツに最も近いデザインを、アからウまでの中から一つ選び、その記号を解答欄に記入しなさい。

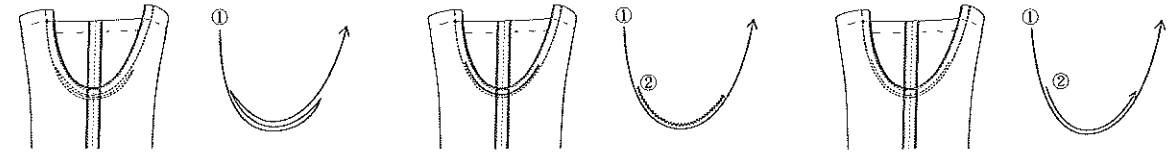


8. アウターパンツのポケット口の縫い方として最も適するものをアからエまでの中から一つ選び、その記号を解答欄に記入しなさい。(図中の●は縫い始めの位置を、→①から→⑤は縫う順番を示す。)



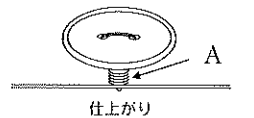
9. 下図はアウターパンツのまた上の縫い方を示したものである。最も適する縫い方をアからウまでの中から一つ選び、その記号を解答欄に記入しなさい。

ア 前後7~8cmを返し縫いで補強する
 イ 前後7~8cmをジグザグミシンで補強する
 ウ 前後7~8cm程度の重ね縫いをする



10. 右図はボタンの付け方の図である。(1)・(2)の問いに答えなさい。

(1) Aの部分の名称を解答欄に記入しなさい。
 (2) Aの目的をアからウまでの中から一つ選んで、その記号を解答欄に記入しなさい。



ア 布の厚みを確保して、ボタンをはめやすくするため
 イ 布地をいためないようにするため
 ウ ボタンの損傷を防ぐため

問題	1			2		3		4		5			6	7			8	9	10	
	(1)	(2)	(3)	(1)	(2)	(1)	(2)	(1)	(2)	(1)	(2)	(3)		(1)	(2)					
3級 第53回 解答																				
得点																				
学校名	高校				学年		組		番号			名前			合計					


3 級 筆記問題

1. 次の文は礼服について述べたものである。(1)・(2)に最も適する語句を、アからエまでのの中からそれぞれ一つずつ選んで、その記号を解答欄に記入しなさい。

最近では儀礼的な被服に対する考え方が変化して、(1)されたり、しきたりにとらわれない傾向もみられるが、社会人としてふさわしい儀礼的、(2)な着装ができるように心がける必要がある。

- ア 簡略化 イ 社交的 ウ 個人的 エ 合理化

2. 右図は織物の組織を示したものである。(1)・(2)の問いに答えなさい。



- (1) この組織の名称を解答欄に記入しなさい。
 (2) この組織の特徴を、アからエまでのの中から一つ選んで、その記号を解答欄に記入しなさい。

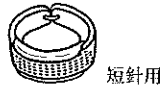
- ア 摩擦に弱い光沢に富み、手ざわりがしなやかですべりがよい
 イ しなやかで、斜めの線が出てしわになりにくい
 ウ 糸の交錯が多いため、糸がずれにくく、丈夫で実用的である

3. 次の文は柔軟仕上げ剤について述べたものである。(1)から(3)に最も適する語句を、アからエまでのの中からそれぞれ一つずつ選んで、その記号を解答欄に記入しなさい。

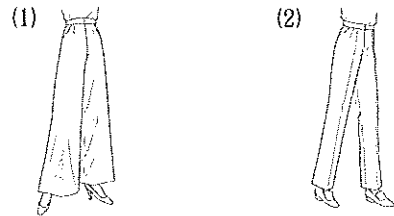
柔軟仕上げ剤は(1)の一種で繊維の表面をうすい膜でおおい、すべりをよくし、ふんわりさせる(2)効果と繊維の電気をにがしやすくする(3)効果がある。

- ア 漂白 イ 柔軟 ウ 界面活性剤 エ 帯電防止

4. 右図の裁縫用具の名称を解答欄に記入しなさい。



5. (1)・(2)のパンツの名称をアからエまでのの中からそれぞれ一つずつ選んで、その記号を解答欄に記入しなさい。

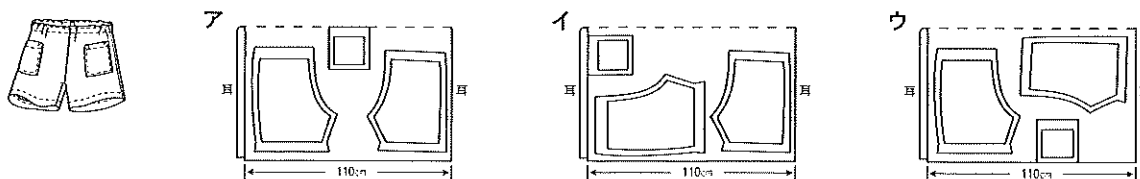


- ア ショートパンツ イ フレアパンツ
 ウ ストレートパンツ エ ガウチョパンツ

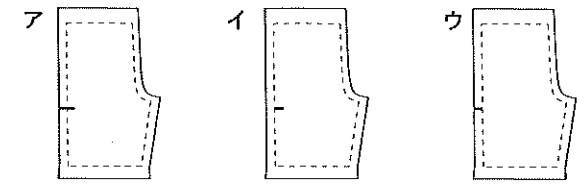
6. ミシンの上糸が切れる原因について該当するものを、アからエまでのの中から二つ選んで、その記号を解答欄に記入しなさい。

- ア 針が針板の針穴の中心に通るようにつけていないとき
 イ 上糸の調子が強すぎるとき
 ウ 上糸のかけ方順序が違っているとき
 エ 布地に対して針と糸の太さが適当でないとき

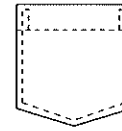
7. 下図は110cm幅の無地の布を使用したアウターパンツの裁ち方である。アからウまでのの中から型紙の置き方が正しいものを一つ選び、その記号を解答欄に記入しなさい。



8. アウターパンツの布地に合いじるしをつける方法として最も適するものをアからウまでのの中から一つ選んで、その記号を解答欄に記入しなさい。(点線はできあがり線である)



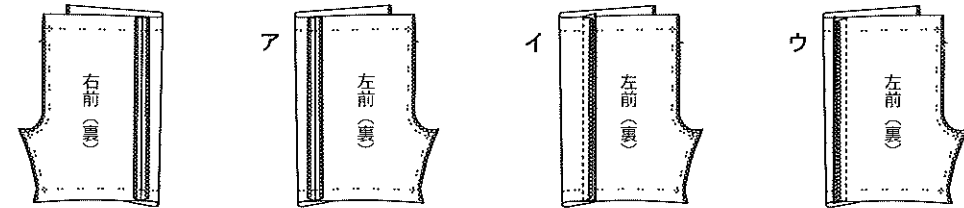
9. 下図のポケットの作り方とつけ方について正しい手順を示しているものをアからウまでのの中から一つ選んで、その記号を解答欄に記入しなさい。



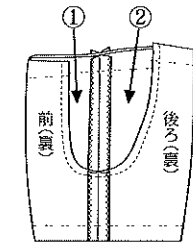
- a パンツに縫いつける ア d→c→b→a
 b ポケット口を三つ折り縫いにする イ c→d→b→a
 c ポケット口の縫いしろを三つ折りにする ウ c→b→d→a
 d ポケット口以外の縫いしろを折る

10. アウターパンツの縫い方に関する以下の問いに答えなさい。

(1) 下図はアウターパンツの右わきの縫い方を示したものである。左わきの縫いしろの倒し方で最も適するものをアからウまでのの中から一つ選んで、その記号を解答欄に記入しなさい。

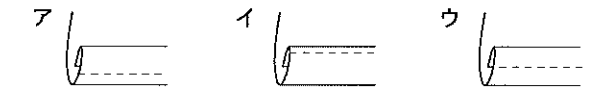


(2) 右図はアウターパンツを縫うときのまた上の合わせ方を示している。①・②に最も適する語句をアからエまでのの中からそれぞれ一つずつ選んで、その記号を解答欄に記入しなさい。



- ア 前(表) イ 後ろ(表)
 ウ 前(裏) エ 後ろ(裏)

(3) アウターパンツのすそを三つ折り縫いにするとき、最も適するものをアからウまでのの中から一つ選んで、その記号を解答欄に記入しなさい。



(4) ウエスト60cmのアウターパンツに幅広のゴムテープを通す場合、どれくらいの長さが適当か。最も適するものをアからエまでのの中から一つ選んで、その記号を解答欄に記入しなさい。ただし、両端の重なり分は含まないものとする。

- ア 62cm イ 46cm ウ 68cm エ 54cm

問題	1		2		3			4	5		6	7	8	9	10				
	(1)	(2)	(1)	(2)	(1)	(2)	(3)		(1)	(2)					(3)	(4)			
								①		②									
3級(第54回) 解答																			
得点																			
学校名	高校				学年		組		番号		名前				合計				

3 級 筆記問題

1. 夏の日常着に適した事項を、アからオまでの中から二つ選んで、その記号を解答欄に記入しなさい。

- ア 厚い布でひとえ仕立てにする
- イ 厚地でないものを重ね着する
- ウ 被覆面積を小さくする
- エ 熱伝導率の小さい材料を用いる
- オ 開口部を大きくする

2. 次の文は布の特徴を示したものである。(1)・(2)に最も適する布地名をアからオまでの中からそれぞれ一つずつ選んで、その記号を解答欄に記入しなさい。

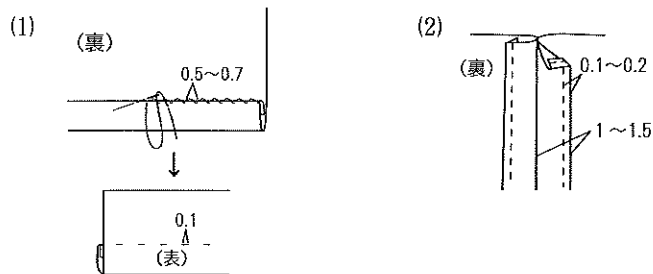
- (1) 綿の単糸を用いた粗目の平織物で、糸の太さや密度によって厚地・中厚地・薄地などの種類があり、安価な生地なので仮縫いや立体裁断用として用いられる。
- (2) 平織又は斜文織の組織を軽フェルト化・起毛した紡毛織物で、厚地で風合いがしっかりしており、弾力性がありスーツ等に使用される。

- ア ブロード イ シーチング ウ フラノ エ ピケ オ コーデュロイ


3. 毛100%の白いセーターを手洗いする場合、(1)から(3)の問いについて最も適するものを、アからウまでの中からそれぞれ一つずつ選んで、その記号を解答欄に記入しなさい。

- (1) 適した洗い方はどれか。 (2) (1)の理由はどれか。 (3) 適した干し方はどれか。
- ア 押し洗いにする ア 黄ばみを防ぐ ア 絞らずに日陰に平干しにする
- イ もみ洗いにする イ 縮むのを防ぐ イ 押し絞りでひなたにつり干しにする
- ウ つかみ洗いにする ウ 汚れがよく落ちる ウ 押し絞りで日陰に平干しにする

4. 下図について、(1)の縫い方の名称、(2)の縫いしろのしまつの名称を解答欄に記入しなさい。



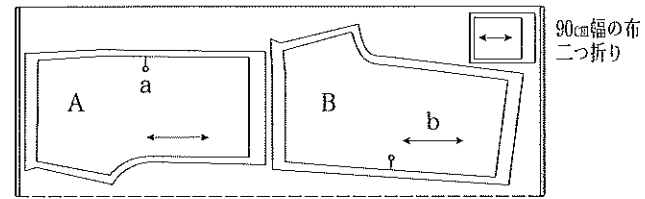
5. 下図のアウトターパンツを製作する場合、どのような順序で縫ったらよいか。(1)から(3)に最も適するものを、アからウまでの中からそれぞれ一つずつ選んで、その記号を解答欄に記入しなさい。



- (1) → ポケットをつける → また下を縫う → (2) → ウエストのしまつ → (3)
- ア また上を縫う イ すそのしまつ ウ わきを縫う

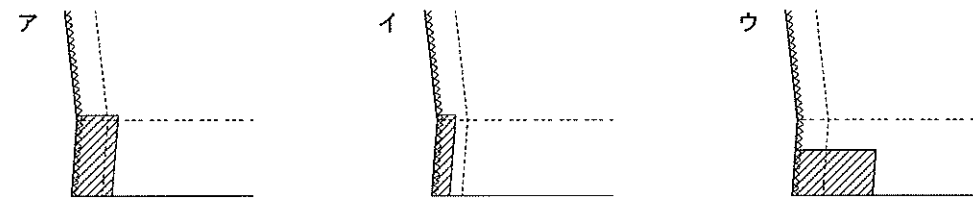
6. 下図はアウトターパンツの裁ち方を示したものである。(1)・(2)の問いに答えなさい。

- (1) 前パンツはA・Bのうちどれか、解答欄に記入しなさい。
- (2) 図中a・bの記号の意味をアからエまでの中からそれぞれ一つずつ選んで、その記号を解答欄に記入しなさい。



- ア 合いじるし
- イ たての布目
- ウ バイアスにとる
- エ 直角

7. 下図は厚手の布を使用したアウトターパンツのすその縫いしろ部分である。すその三つ折りの落ち着きをよくするために縫いしろを切り落とす場合、最も適しているものをアからウまでの中から一つ選んで、その記号を解答欄に記入しなさい。



8. アウトターパンツのまた上の縫い方について、文中の(1)から(3)に最も適する語句を、アからオまでの中からそれぞれ一つずつ選んで、その記号を解答欄に記入しなさい。また、下線部(a)について、最も適しているものをカからクまでの中から一つ選んで、その記号を解答欄に記入しなさい。ただし、縫いしろはロックミシンでしまつするものとする。

- ・左右のパンツを (1) に合わせ、しるしどおりに縫い合わせる。
- ・中心にゴム通しを作るときは、前パンツのウエストのゴム通し口は縫い残し、最初と最後は (2) をする。
- ・また下の交差した部分は、補強のため(a)重ね縫いをする。
- ・縫いしろは (3) 。

- ア 返し縫い イ 外表 ウ 中表 エ アイロンで割る オ 右パンツに倒す
- カ また下の交差部分から前後それぞれ1~2cmを重ね縫いする
- キ また下の交差部分から前後それぞれ7~8cmを重ね縫いする
- ク 前パンツ部分のみ、すべて重ね縫いする

問 題	1	2		3			4		5			6		7	8				
		(1)	(2)	(1)	(2)	(3)	(1)	(2)	(1)	(2)	(3)	(2)			(1)	(2)	(3)	(a)	
												a	b						
3 級 (第55回) 解 答																			
得 点																			
学 校 名	高 校		学 年		組		番 号		名 前		合 計								

3 級 筆記問題

1. 次の文は繊維について述べたものである。(1)・(2)に最も適する語句をアからオまでの中からそれぞれ一つずつ選んで、その記号を解答欄に記入しなさい。

現在は天然繊維と合成繊維の混紡製品が多く出回っている。この理由は(1)がしわになりやすいのに比べ、合成繊維は(2)や強度がすぐれているからである。

- ア 天然繊維 イ 合成繊維 ウ 弾性 エ 保温性 オ 保水性

2. 次の(1)・(2)の被服材料の性質について、最もあてはまる名称を解答欄に記入しなさい。

- (1) 汗などの水分を吸収する性質
 (2) 水蒸気を通す性質

3. 平面構成について、(1)・(2)の問いに答えなさい。

(1) 次の文の①・②に最も適する語句を、アからオまでの中からそれぞれ一つずつ選んで、その記号を解答欄に記入しなさい。

日本のきものに代表される平面構成の衣服は、布を(①)的に裁断し平面的に組み合わせた構成であり、体型に多少の差があっても着ることができ、(②)性がある。

- ア 直線 イ 曲線 ウ 困難 エ 融通 オ 容易

(2) 平面構成の衣服を、アからウまでの中から一つ選んで、その記号を解答欄に記入しなさい。

- ア インドのサリー イ ベトナムのアオザイ ウ 18世紀のドレス



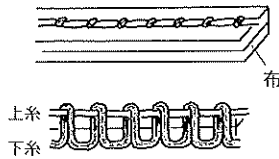
4. 下図はミシン縫いの上糸と下糸のつり合いを示したものである。次の(1)・(2)の問いに答えなさい。

(1) つり合いの状態をア・イの中から一つ選んで、その記号を解答欄に記入しなさい。

- ア 上糸が弱い イ 上糸が強い

(2) つり合いをよくするためにはどうしたらよいか。アからウまでの中から一つ選んで、その記号を解答欄に記入しなさい。

- ア 送り調節ダイヤルの目盛りを大きくする
 イ 上糸調節ダイヤルの目盛りを大きくする
 ウ 上糸調節ダイヤルの目盛りを小さくする



5. アウターパンツを製作する場合、必要な採寸箇所をアからエまでの中から二つ選んで、その記号を解答欄に記入しなさい。

- ア 腰囲 イ 背たけ ウ 胸囲 エ 胴囲

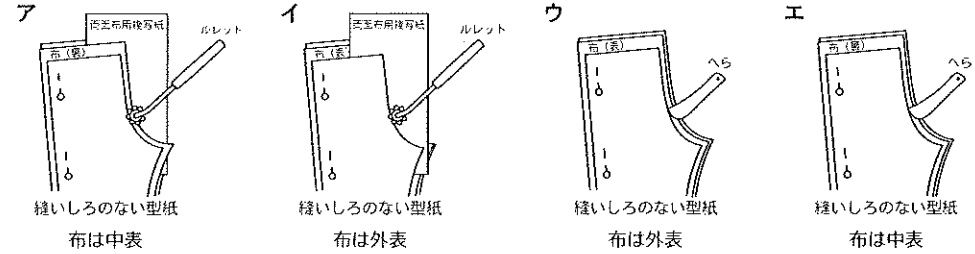


6. 次の文はアウターパンツの裁断について述べたものである。(1)から(4)に最も適する語句をアからキまでの中からそれぞれ一つずつ選んで、その記号を解答欄に記入しなさい。

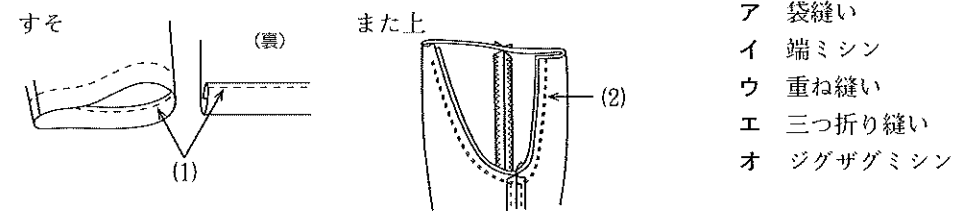
型紙の(1)線と布の(2)が平行になるように、方向に注意して型紙を置く。布幅が広く(3)のない柄の場合には差し込み裁ちをすることができ、経済的である。大柄の一方の場合には、(4)が必要となってくる。

- ア 上下 イ すそ ウ 耳 エ 裁ち目 オ 布目 カ 柄あわせ キ 合いじるし

7. 下図はアウターパンツのしるしつけを示したものである。最も適するものをアからエまでの中から一つ選んで、その記号を解答欄に記入しなさい。

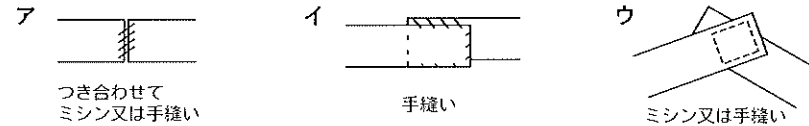


8. 下図はアウターパンツの縫い方を示したものである。(1)・(2)に最も適する縫い方をアからオまでの中からそれぞれ一つずつ選んで、その記号を解答欄に記入しなさい。



9. アウターパンツのウエストのゴムテープについて、(1)・(2)の問いに答えなさい。

(1) ウエストにゴムテープを通したときのゴム両端のしまつについて、最も適するものをアからウまでの中から一つ選んで、その記号を解答欄に記入しなさい。



(2) ゴムテープの長さを見積もる場合、最も適するものをアからウまでの中から一つ選んで、その記号を解答欄に記入しなさい。

- ア ウエスト寸法×0.5 イ ウエスト寸法×0.9 ウ ウエスト寸法×2

問題	1		2		3		4		5	6				7	8		9	
	(1)	(2)	(1)	(2)	(1)	(2)	(1)	(2)		(1)	(2)	(3)	(4)		(1)	(2)	(1)	(2)
	3級(第56回)解答																	
得点																		
学校名	高校				学年		組		番号		名前				合計			

3 級 筆記問題

1. 次の文は着装について述べたものである。(1)から(3)に最も適する語句を、アからオまでの中からそれぞれ一つずつ選んで、その記号を解答欄に記入しなさい。

服装は、私たちの個性や（ 1 ）を表現するための大きな役割をはたしている。人は、他人と（ 2 ）しようとする個性化と、他人と合わせようとする（ 3 ）化の性格をあわせもっており、服装はこれらを表現するのに最適の働きをする。

ア 調和 イ 区別 ウ 同一 エ 印象 オ 気持ち

2. 次の文は衣服の保管について述べたものである。(1)から(3)に最も適する語句を、アからカまでの中からそれぞれ一つずつ選んで、その記号を解答欄に記入しなさい。

衣服は気密性のある容器に入れてしわや形くずれなどが生じないようにし、防虫剤、防湿剤を入れて保管する。特に防虫剤は、防虫剤から出るガスが空気より（ 1 ）ので衣服の（ 2 ）に置く。また、異種類の防虫剤を同時に使用すると、（ 3 ）してしみをつけることもあるので、防虫剤の種類はよく確認して使う。


ア 重い イ 軽い ウ 上部 エ 下部 オ 気化 カ 液化

3. 次の文の説明に最も適するものを、アからエまでの中からそれぞれ一つずつ選んで、その記号を解答欄に記入しなさい。

- (1) 暖房時の室温20℃で快適な服装
- (2) 発展途上国で作られた製品を適正な価格で取引することによって、生産者の持続的な生活向上を支えるしくみ

ア クールビズ イ フェアトレード ウ ウォームビズ エ ファストファッション

4. 下図はまつり縫いの表目を示したものである。正しい針目を示している図はどれか、アからウまでの中から一つ選んで、その記号を解答欄に記入しなさい。

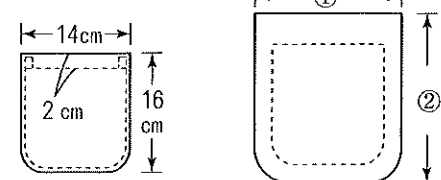


5. 次の工程はパンツ（ポケットつき）の縫い方を示したものである。(1)・(2)に最も適する語句を解答欄に記入しなさい。

型紙づくり → 裁断 → しるしつけ → （ 1 ）のしまつ → ポケットつけ → わき縫い → （ 2 ）縫い → また上縫い → ウエスト・すそのしまつ

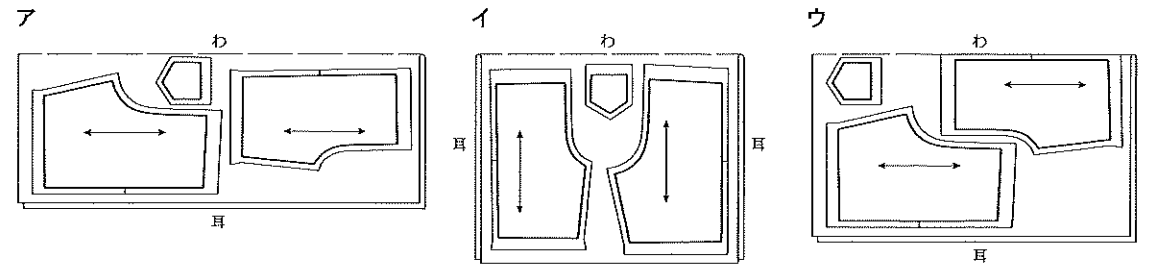
6. アウターパンツのポケットのできあがりの大きさを図のようにする時、布地の①・②の寸法は何cmが最もよいか、アからカまでの中からそれぞれ一つずつ選んで、その記号を解答欄に記入しなさい。

できあがり図



ア 16cm イ 14cm ウ 12cm
エ 24cm オ 22cm カ 20cm

7. 模様が一方向を向いている布にアウターパンツの型紙を置く場合、最も適しているものをアからウまでの中から一つ選んで、その記号を解答欄に記入しなさい。



8. 次の文はアウターパンツのしるしつけについて述べたものである。(1)から(3)に最も適する語句をアからオまでの中からそれぞれ一つずつ選んで、その記号を解答欄に記入しなさい。

しるしつけは、布地に合わせて行う。綿・麻・化繊などは外表に合わせ、間に（ 1 ）をはさみ、（ 2 ）で布地裏面にしるしをつける。（ 3 ）やポケット位置なども忘れずにつける。

ア ルレット イ しつけ糸 ウ チャコペーパー エ ものさし オ 合いじるし

9. アウターパンツに関する以下の問いに答えなさい。

(1) Aの名称に最も適するものをアからウまでの中から一つ選んで、その記号を解答欄に記入しなさい。

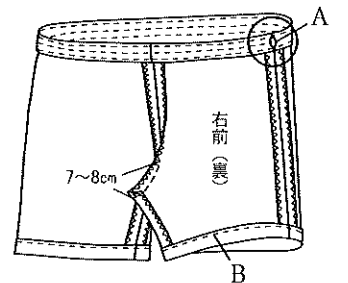
ア ポケット口 イ また上 ウ ゴム通し口

(2) Bに最も適する縫い方の方法をアからウまでの中から一つ選んで、その記号を解答欄に記入しなさい。

ア 三つ折り縫い イ かがり縫い ウ 折り伏せ縫い

(3) ゴムテープの長さを見積もる場合、最も適するものをアからウまでの中から一つ選んで、その記号を解答欄に記入しなさい。

ア ウエスト寸法×0.5 イ ウエスト寸法×0.9 ウ ウエスト寸法×2

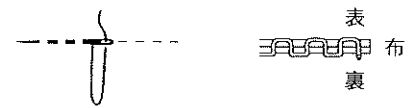


問題	1			2			3		4	5		6		7	8			9				
	(1)	(2)	(3)	(1)	(2)	(3)	(1)	(2)		(1)	(2)	①	②		(1)	(2)	(3)	(1)	(2)	(3)		
3級(第57回) 解答																						
得点																						
学校名	高校			学年			組		番号		名前		合計									

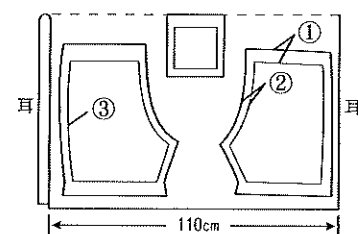
3 級 筆 記 問 題

- 冬の日常着に適した事項を、アからオまでの中から二つ選んで、その記号を解答欄に記入しなさい。
 ア 厚い布でひとえ仕立てにする イ 熱伝導率の小さい材料を用いる ウ 開口部を大きくする
 エ 厚地でないものを重ね着する オ 含気量の少ない材料のものを着用する
- 次の文は洗剤について述べたものである。(1)から(3)に最も適する語句を、アからオまでの中からそれぞれ一つずつ選んで、その記号を解答欄に記入しなさい。(同じ記号を二度使用してよい)
 家庭用洗剤の種類には石けんと合成洗剤がある。石けんの水溶液は(1)なので汚れを落とす力は強いが(2)などの洗濯には適さない。合成洗剤には弱アルカリ性洗剤と中性洗剤がある。(3)はアルカリ成分の混ざっていない中性洗剤を選ぶとよい。
 ア 動物性繊維 イ 植物性繊維 ウ 中性 エ 酸性 オ アルカリ性
- 綿のワイシャツに最も適したアイロン仕上げの温度を、アからウまでの中からそれぞれ一つ選んで、その記号を解答欄に記入しなさい。
 ア 低(80~110℃) イ 中(140~150℃) ウ 高(180~200℃)
- また上の採寸方法で最も適するものを、アからウまでの中から一つ選んで、その記号を解答欄に記入しなさい。
 ア 後ろ中心の首の付け根から胴囲までを背面にそって測る
 イ 腰の最も太いところを水平に測る
 ウ 椅子に腰かけて、座面から胴囲までを測る
- 布地の扱いに関する以下の問いに答えなさい。
 (1) 布の表裏の見分け方について述べた次の文の①・②に当てはまる語句をアからオまでの中からそれぞれ一つずつ選んで、その記号を解答欄に記入しなさい。
 染色・(①)・光たく・毛羽立ちでは、よりはっきりしている方を表とする。仕上げから判断する場合は、布地の(②)に商標名などがある場合はきちんと読める方が表である。
 ア うすく イ 耳 ウ つや エ 中表 オ 模様
 (2) 被服製作の前準備として行う、着用後の型崩れを防いだり、布のゆがみ・つれ・しわを直すなどの目的で布地を整えることを何というか、解答欄に記入しなさい。

- 右図の縫い方の名称をアからウまでの中から一つ選んで、その記号を解答欄に記入しなさい。
 ア まつり縫い イ 半返し縫い ウ なみ縫い



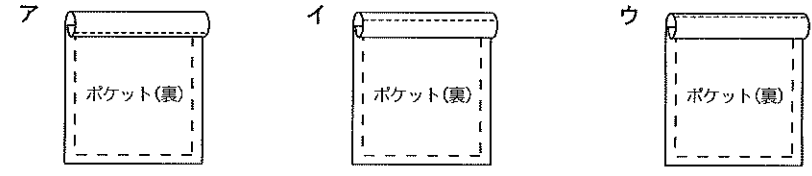
- ミシンでの縫い方に関する文の()に当てはまる語句を解答欄に記入しなさい。
 ・直角の部分にミシンをかけるときは、針を角に刺したまま()を上げて布を動かすときれいに縫える。



- 右図はソフトデニムでアウターパンツを製作する場合の裁断図である。①・②には最も適する縫いしろ分量を、③には名称を、アからオまでの中からそれぞれ一つずつ選んで、その記号を解答欄に記入しなさい。
 ※ウエストのしまつは三つ折りで、3cm幅のゴムを入れる。
 ア 1.5cm イ 3.5cm ウ 5cm
 エ また上 オ わき

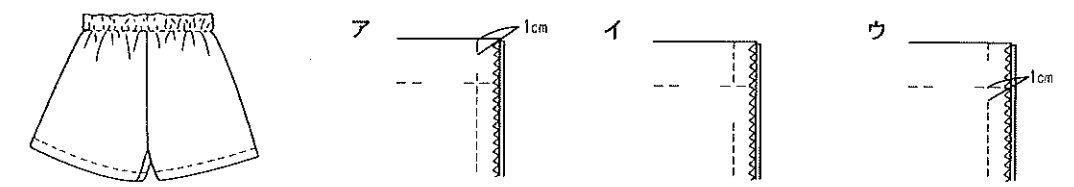
- アウターパンツのわきの縫い方で留意すべき事項をアからエまでの中から一つ選んで、その記号を解答欄に記入しなさい。
 ア 前パンツと後ろパンツを外表にして、できあがり線どおりに縫う
 イ 前パンツと後ろパンツを中表にして、できあがり線どおりに縫う
 ウ 前パンツどうしを中表にして、裁ち端どうしをそろえて縫う
 エ 前パンツどうしを中表にして、できあがり線どおりに縫う

- 下図はアウターパンツのポケット口のミシンのかけ方を示したものである。最も適するものをアからウまでの中から一つ選んで、その記号を解答欄に記入しなさい。



- アウターパンツのまた上の縫い方に関する問いに答えなさい。
 (1) また上の重ね縫いについて、最も適切な縫い方をアからウまでの中から一つ選んで、その記号を解答欄に記入しなさい。
 ア また下との交差部分からそれぞれ7~8cmを重ね縫いする
 イ また下との交差部分からそれぞれ1~2cmを重ね縫いする
 ウ 前パンツ部分のみ、すべて重ね縫いする
 (2) 縫いしろを二度縫いでしまつする場合、また上の縫いしろはどちら側に倒すか、最も適切なものをアからウまでの中から一つ選んで、その記号を解答欄に記入しなさい。
 ア 前は右パンツ、後ろは左パンツに倒す イ 右パンツに倒す ウ 左パンツに倒す

- 下図のアウターパンツのウエストのしまつについて、幅広のゴムを通す場合、通し口の縫い方として最も適するものをアからウまでの中から一つ選んで、その記号を解答欄に記入しなさい。



3 級 (第58回)	問 題	1	2			3	4	5		6	7	8			9	10	11		12
			(1)	(2)	(3)			(1)	(2)			①	②	③			(1)	(2)	
	解 答							①	②										
得 点																			
学 校 名			高 校	学 年		組		番 号		名 前				合 計					

3 級 筆記問題

1. 次の文は被服材料について述べたものである。(1)から(3)に最も適する語句をアからオまでの中からそれぞれ一つずつ選んで、その記号を解答欄に記入しなさい。

布には、たて糸とよこ糸を交錯してつくる（ 1 ）や、糸をループ状にからみあわせてつくる（ 2 ）、繊維を糸にせず直接からませて布にする（ 3 ）などがある。

- ア 編物 イ 織物 ウ 皮革 エ 不織布 オ 布

2. 次の(1)・(2)の繊維の原料を、アからエまでの中からそれぞれ一つずつ選んで、その記号を解答欄に記入しなさい。

(1) 綿 (2) 毛

- ア 麻のくき、皮 イ 綿花 ウ 羊毛 エ 蚕のまゆ

3. 次の文は洋服の構成と体の動きとの関係について述べたものである。(1)・(2)に最も適する語句をアからエまでの中からそれぞれ一つずつ選んで、その記号を解答欄に記入しなさい。

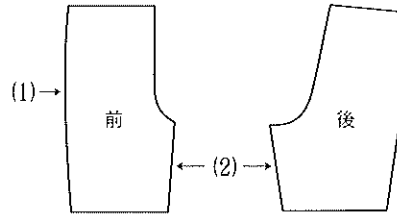
スカートには、階段の昇り降りや（ 1 ）に必要な（ 2 ）がないと活動しにくい。

- ア 長さ イ すそ ウ ゆとり エ 歩行

4. 下図はミシンの下糸の巻き状態を示したものである。正しいものをアからウまでの中から一つ選んで、その記号を解答欄に記入しなさい。



5. 右図はアウターパンツの構成図である。図中(1)・(2)の名称を解答欄に記入しなさい。

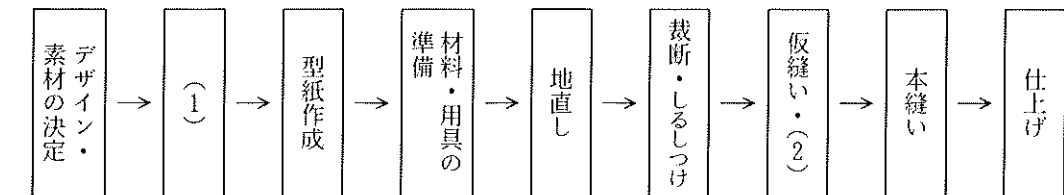


6. 次の文は、ソフトデニムを用いてアウターパンツの製作をする場合の型紙の置き方について述べたものである。(1)・(2)に最も適するものをアからエまでの中からそれぞれ一つずつ選んで、その記号を解答欄に記入しなさい。

型紙の置き方……チャコペーパーでしるしをつけるので、布を（ 1 ）に折りたたんで型紙をおく。この時、型紙の布目線を布の（ 2 ）方向に正しく合わせて配置し、待ち針でとめる。柄が美しく続いてみえるように柄合わせをする場合もある。

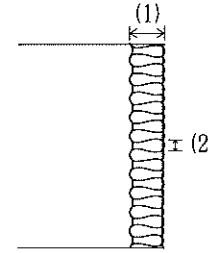
- ア たて イ よこ ウ 中表 エ 外表

7. 被服製作の工程について、次の(1)・(2)に適するものをアからオまでの中からそれぞれ一つずつ選んで、その記号を解答欄に記入しなさい。



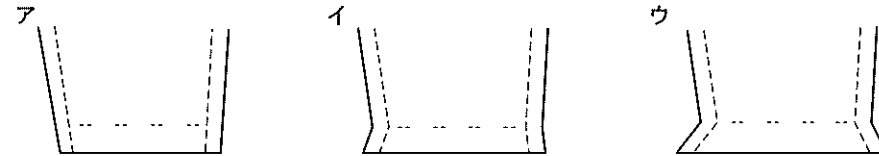
- ア 型紙 イ 採寸 ウ 地直し エ 洗たく オ 補正

8. 下図は、ロックミシンを使用して布端をしまった時の図である。図の(1)・(2)の名称をアからエまでの中からそれぞれ一つずつ選んで、その記号を解答欄に記入しなさい。

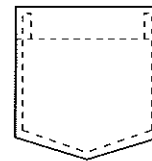


- ア かがり幅
イ 布目
ウ 送り目
エ 縫いしろ幅

9. 下図はアウターパンツのわき・また下の縫いしろのつけ方と縫い方を示したものである。最も適するものをアからウまでの中から一つ選んで、その記号を解答欄に記入しなさい。



10. 下図のアウターパンツのポケットのつくり方とつけ方について正しい手順を示しているものをアからウまでの中から一つ選んで、その記号を解答欄に記入しなさい。



- a パンツに縫いつける ア d→c→b→a
b ポケット口をミシンで縫う イ c→d→b→a
c ポケット口の縫いしろを三つ折りにする ウ c→b→d→a
d ポケット口以外の縫いしろを折る

11. 下図の(1)・(2)の縫いしろのしまつの名称をアからエまでの中からそれぞれ一つずつ選んで、その記号を解答欄に記入しなさい。

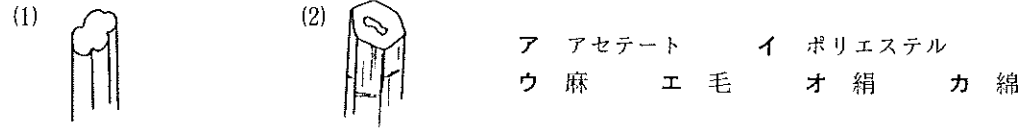


- ア 袋縫い
イ 三つ折り縫い
ウ 端ミシン
エ 二度縫い

3 級 (第59回)	問 題	1			2		3		4	5		6		7		8		9	10	11	
		(1)	(2)	(3)	(1)	(2)	(1)	(2)		(1)	(2)	(1)	(2)	(1)	(2)	(1)	(2)			(1)	(2)
	解 答																				
	得 点																				
学校名							学年	組	番号	名前						合計					

3 級 筆 記 問 題

1. 次の(1)・(2)は、繊維を顕微鏡で見てスケッチしたものである。最も適する繊維名をアからカまでの中からそれぞれ一つずつ選んで、その記号を解答欄に記入しなさい。



2. 次の文は衣類の洗濯について述べたものである。(1)・(2)の下線の部分について正しいものには○を、正しくないものには×を解答欄に記入しなさい。

- (1) 混紡や交織の布の洗濯には、化学的性質の強いほうの繊維にあわせた扱い方をする。
 (2) 洗濯液の洗剤の量を、標準使用量より多くしても、汚れの落ちぐあいはかわらない。

3. 次の文は、着ごこちのよい被服を製作するための条件をあげたものである。適するものをアからオまでの中から二つ選んで、その記号を解答欄に記入しなさい。

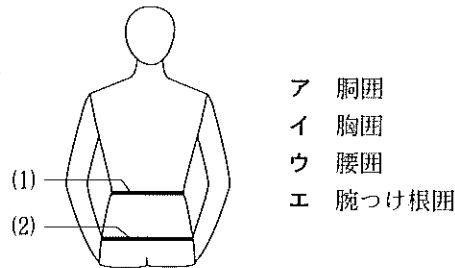
- ア 体型に合った被服であれば、ゆとりは入れなくてよい。
 イ 人の体型は、姿勢や動作によって変化するので、活動しやすいゆとりをもたせる必要がある。
 ウ ゆとりがたくさん入った被服が楽であるので、ゆとりをできるだけ多めに入れるのがよい。
 エ 人の体型は個人差があるので、着用者の体型を正確に知ることが大切である。
 オ 人の動きにはあまり変化がないので、どのような被服も同じゆとりを入れればよい。

4. 次の文は糸と針の太さについて述べたものである。(1)・(2)に適する語句をア、イから選んで、その記号を解答欄に記入しなさい。

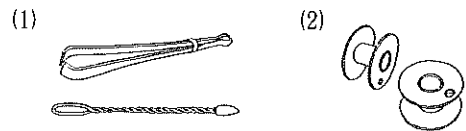
- ・カタン糸は番手数が小さくなるほど（ 1 ）になる。
- ・ミシン針の太さは番号が小さくなるほど（ 2 ）になる。

ア 細 イ 太


5. 右図は、採寸箇所を示したものである。(1)・(2)の名称をアからエの中からそれぞれ一つずつ選んで、その記号を解答欄に記入しなさい。



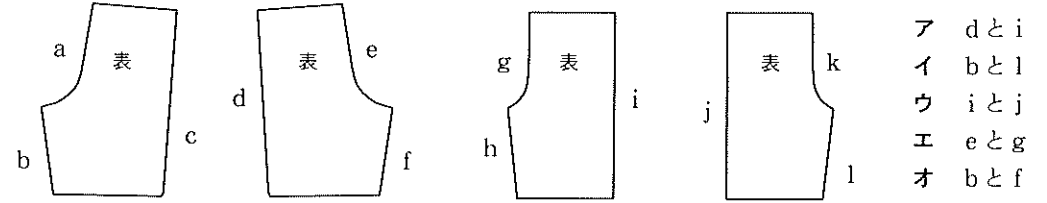
6. 下図の(1)・(2)の裁縫用具の名称を解答欄に記入しなさい。



7. 右図はまち針の打ち方を示したものである。正しい打ち方をアからエまでの中から一つ選んで、その記号を解答欄に記入しなさい。



8. アウターパンツの布を裁断したところ、下図の4枚になった。縫い合わせる箇所の組み合わせとして適するものをアからオまでの中から二つ選んで、その記号を解答欄に記入しなさい。

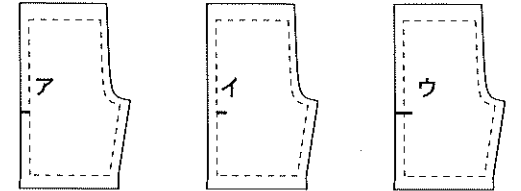


9. 布幅の種類を表した表の(1)・(2)に最も適する語句をアからウまでの中からそれぞれ一つずつ選んで、その記号を解答欄に記入しなさい。

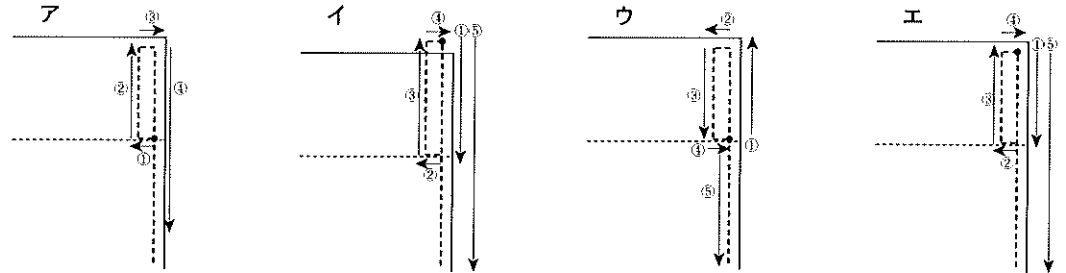
幅 (cm)	種類
約90~92cm	(1)
約110~120cm	(2)
約140~150cm	ダブル幅

- ア 普通幅
イ 半幅
ウ シングル幅

10. アウターパンツの布地に合いじるしをつける方法として最も適するものをアからウまでの中から一つ選んで、その記号を解答欄に記入しなさい。(点線はできあがり線である)



11. ポケット口の縫い方として最も適するものをアからエまでの中から一つ選んで、その記号を解答欄に記入しなさい。(図中の●は縫い始めの位置を、→①から→⑤は縫う順番を示す。)



12. ミシン縫いの方法について（ ）に最も適する語句をアからウまでの中から一つ選んで、その記号を解答欄に記入しなさい。

ミシン縫いの途中で糸が切れたときは、2cm程度の（ ）をするとほどこにくい。

- ア 二度縫い イ ジグザグ縫い ウ 重ね縫い

問 題	1		2		3	4		5		6		7	8	9		10	11	12
	(1)	(2)	(1)	(2)		(1)	(2)	(1)	(2)	(1)	(2)							
3 級 (第 60 回)																		
解 答																		
得 点																		
学 校 名					学 年	組	番 号	名 前				合 計						